

پیک
نوروزی

آدینه‌ها با گراد

۲

پایه‌ی دوم دبستان

- بودجه بندی محتوایی (سالانه)
- بودجه بندی هفتگی و ماهانه
- جدول ارزشیابی پایانی
- سرگرمی

خلاصه ای از تمام فصل های کتاب

آدینه‌ها با گراد

مهر ماه

پایه دوم

شماره ۱



این هفته با طعم انار

قرآن : صفحه‌ی ۲ تا ۶ درس ۱

هدیه‌های آسمان: صفحه‌ی ۱۲ تا ۱۵ درس ۱

فارسی : صفحه‌ی ۲ درس ستایش

ریاضی : صفحه‌ی ۲ تا ۴ یادآوری عدد و شمارش

علوم : صفحه‌ی ۱۲ تا ۱۵ درس ۱ زنگ علوم


نام و نام خانوادگی :

دبستان :

کلاس :

قرآن

۱) فرزندم، معنی یک پیام قرآنی از کتاب قرآن کلاس اول خود را که به یاد داری بنویس.



.....

۲) عزیزم در جدول زیر، برای حروف الفبا با رنگ **قرمز** حرکت بگذار و آن ها را برای خانواده ات بخوان.



ا	اِ	اَ	اُ	آ	أ	إ	إِ	إِ
ذ	ذِ	ذَ	ذُ	ذ	ذ	ذ	ذ	ذ
ع	عِ	عَ	عُ	ع	ع	ع	ع	ع
ط	طِ	طَ	طُ	ط	ط	ط	ط	ط



خیلی خوب
 خوب
 قابل قبول
 نیاز به تلاش بیشتر

هدیه

۱) فرزندم، دو نمونه از نعمت های خداوند را بنویس یا نقاشی کن.



۲) در شعر زیر به کدام یک از نعمت های خدا اشاره شده است.
خدایا! آفتاب و آب از توست ستاره، آسمان، مهتاب از توست.

۳) فرزندانم، خودت را در آینه نگاه کن به نظرت خداوند چه نعمت هایی را در بدن تو قرار داده است، چند نمونه را بنویس.



۴) بیشترین هدیه از طرف چه کسی به شما داده شده است؟

- الف) پدر و مادر ب) امامان
 ج) خداوند د) پیامبران



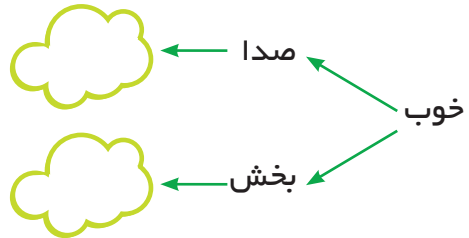
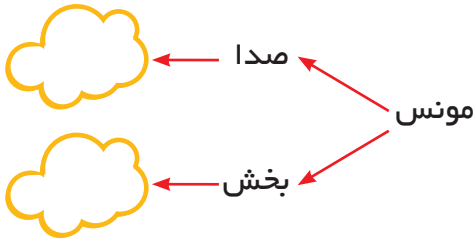
خیلی خوب خوب قابل قبول نیاز به تلاش بیشتر

فارسی

۱) کلمات زیر را به ترتیب حروف الفبا بنویس.

یاری - آغاز - نشاط - عزیز - موفق - بهترین - سپاسگزار.

۲) کلمه های زیر به ترتیب چند بخش و چند صدا دارند؟ بنویس.



۳ مرتب کن.

الف) می دهد - تو - نام - شادی - به - نشاط - من - و.

.....

ب) تو - می کنم - را - من - کارهایم - شروع - با نام.

.....

۴ عزیزم، با توجه به درس ستایش برای نشانه های زیر کلمه بنویس.



ط	ز	ه	غ

۵ فرزندانم، حرف جا افتاده در کلمه های زیر را از داخل شاپرک ها انتخاب کن و کلمات را کامل کن.



نام	همیشه	خانواد	بترین	نجام	خاهر
-----	-------	--------	-------	------	------

۶ دسته بندی کن.

ایران - درستی - عزیز - سرمه ای - خوبی - بگیرد - ایستاده - همیشه - شادی

ای	ی	پ	اپ



ریاضی

۱ کدام چوب خط عدد (۱۴) را نشان می دهد.

(ب) ### ### ###

(الف) ### ### ///

(د) ### ### /

(ج) ### ### ////

۲ علامت (< = >) بگذار.

$2 + 3 \bigcirc 5$

$10 - 0 \bigcirc 10 + 0$

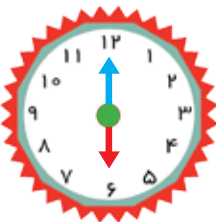
$3 + 5 \bigcirc 9$

$3 - 2 \bigcirc 4 + 1$

۳ شکل زیر چه عددی را نشان می دهد؟ هفتمین عدد بعد از این عدد کدام است؟




۴ هر شکل چه ساعتی را نشان می دهد؟ عدد درست را رنگ بزن.



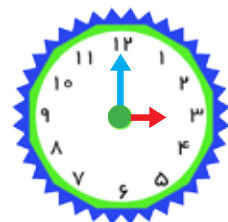
12

6



11

12




3

2

۵ به حوض زیر نگاه کن. چند تا ماهی دارد؟

حامد ۴ تا ماهی در این حوض انداخت با رسم چوب خط تعداد کل ماهی ها را نشان بده.



۶ عزیزم، جدول شگفت انگیز زیر را کامل کن.



	۵	۱	۳	۶	۲	۴	۸
	۲	۸	۵	۴	۶		۳
	۳	۴	۸	۲		۵	




خیلی خوب خوب قابل قبول نیاز به تلاش بیشتر

علوم

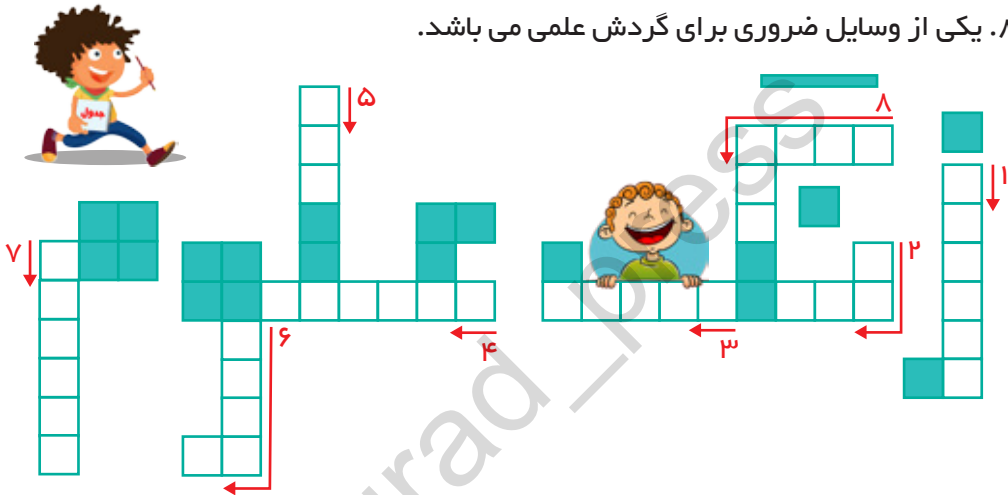
۱ در تصویر زیر یک وسیله ی ضروری برای گردش علمی را می بینید، شما تصویر

یک وسیله ی دیگر را بکشید.




۲ جدول را کامل کن.

۱. در گردش علمی به خوب و با دقت دیدن اطراف می گویند.
۲. مشاهده به کمک انجام می گیرد.
۳. به بیان مشاهدات از روی یادداشت ها می گویند.
۴. هنگام خواندن کتاب از حس استفاده می کند.
۵. بوییدن و چشیدن بعضی چیزها برای سلامتی دارد.
۶. برای تشخیص جنس پارچه ی لباسمان از حس استفاده می کنیم.
۷. برای بوییدن گل ها از حس استفاده می کنیم.
۸. یکی از وسایل ضروری برای گردش علمی می باشد.



۳ هر یک از اعضاء مشخص شده در بدن، مربوط به کدام حس می باشد؟ بنویس.



خیلی خوب خوب قابل قبول نیاز به تلاش بیشتر



عزیزم، نیمه ی دیگر این تصویر را با اشکال و طرح های مختلف و خلاقانه به سلیقه ی خودت رسم کن.



تلاش بیشتر

قابل قبول

خوب

خیلی خوب



ارزیابی

شاخص

۱- مهارت برنامه ریزی و زمان

۲- توانایی درک و فهم مطالب

۳- داشتن استقلال و عدم وابستگی در خواندن و حل تمرینات

۴- داشتن علاقه، انگیزه و دقت کافی

۵- رعایت اصول زیبا نویسی و تمیزی در نوشتن مطالب

۶- علاقه به انجام فعالیت های مرتبط با سرگرمی و

نظر توصیفی اولیاء :



آدینه‌ها با گراد

مهر ماه

پایه دوم

۲

شماره ۲



این هفته با طعم تماشایی

قرآن : صفحه‌ی ۷ تا ۱۰ جلسه‌ی سوم و چهارم درس ۱

هدیه‌های آسمان: صفحه‌ی ۱۶ تا ۱۹ درس ۲

فارسی : صفحه‌ی ۴ تا ۶ درس ۱ کتابخانه‌ی کلاس ما

ریاضی : صفحه‌ی ۵ تا ۸ دسته‌های ده‌تایی و یکی ، حل مسئله

علوم : صفحه‌ی ۱۶ تا ۱۷ درس ۲ هوای سالم

نام و نام خانوادگی :

دبستان :

کلاس :

قرآن

۱ عزیزم، برای شعر خدای بخشنده، یک نقاشی زیبا بکش.



۲ با توجه به معنی پیام قرآنی زیر، دو صفت خدای مهربان را داخل گل ها بنویس.

« هُوَ الرَّحْمَنُ الرَّحِيمُ »



خیلی خوب خوب قابل قبول نیاز به تلاش بیشتر

هدیه

۱ خدایا به خاطر هدیه های زیادی که به من داده ای

از تو



جدول را حل کن.

۱. دست، پا، چشم و دهان از نعمت های است.
۲. موقع نماز در مساجد می گویند.
۳. قبل از نماز خواندن و سخن گفتن با خدا باید بگیریم.
۴. گنجشک ها با جیک جیک کردن از خداوند می کنند.



			۱
			۲
			۳
			۴

کدام یک از بزرگ ترین نعمت های خداوند است، که برای ادامه ی زندگی تمام جانداران لازم و ضروری است؟ علامت بزن.



خیلی خوب خوب قابل قبول نیاز به تلاش بیشتر

فارسی

۱ عزیزم، برای هر یک از کلمه های زیر جمله ای خنده دار بنویس.



نماینده :

مجله :

۲ کدام یک از عبارات زیر، با توجه به درس اول نادرست است؟

- (الف) کتاب خوب، مانند دوست خوب است.
- (ب) ما باید کتاب ها و مجله های ویژه ی خودمان را بخوانیم.
- (ج) کتاب خوب را با هم فکری و مشورت بزرگ ترها انتخاب می کنیم.
- (د) تمام کتاب ها برای ما مفید هستند.

۳ فرزندم جدول را حل کن و با جواب آن یک جمله بنویس.



۱. حرف اول کلمه ی (بگوید)	
۲. حرف دوم کلمه ی (مهناب)	
۳. حرف سوم کلمه ی (توت)	
۴. حرف چهارم کلمه ی (مادر)	

رمز:

جمله:

۴ با توجه به متن درس اول، جمله های زیر را کامل کن.

- (الف) آموزگار در کلاس
 (ب) بهتر است کتاب ها و مجله های خودمان را بخوانیم.
 (ج) بچه ها به صورت نشستند.



۵ اگر کتابی را از کتابخانه ی مدرسه به امانت بگیری، چگونه از آن نگره داری می کنی؟

.....




- خیلی خوب خوب قابل قبول نیاز به تلاش بیشتر

ریاضی

۱) عدد دو رقمی بنویس که یکانش ۸ و دهگانش ۷ تا کمتر از یکانش باشد.



۲) الگوها را ادامه بده.



۳) فرزندم، برای شکل زیر یک مسئله بنویس.



.....

.....

.....

۴) کلمه درستی و نادرستی گزینه های زیر را مشخص کن.



الف) عدد ۴۵ با حروف، به صورت پنجاه و چهار نوشته می شود.

ب) ۵۲ برابر است با ۲ ده تایی و ۵ یکی.

ج) عدد قبل از ۶۰، ۵۹ می باشد.

د) با رقم های ۲ و ۴ فقط می توان دو عدد دو رقمی نوشت.



۵) دیروز محمد برای دوستانش از بازار ۵ توپ قرمز، ۶ توپ آبی و ۴ توپ سفید خرید. او روی هم چند توپ برای دوستانش خریده است. (با رنگ کردن شکل)



خیلی خوب
 خوب
 قابل قبول
 نیاز به تلاش بیشتر

علوم

۱) سالانه افراد زیادی بر اثر به بیماری آسم مبتلا می شوند.

- الف) آلودگی آب ب) آلودگی هوا
 ج) آلودگی صوتی د) آلودگی محیط زیست

۲) به نظرت در کدام تصویر هوا سالم تر است؟ چرا؟



۳) فهیمه می گوید: «برای آلوده نشدن هوا نباید زباله ها را بسوزانیم». شما نیز

یک پیشنهاد در این زمینه بنویسید.



۴) کدام یک از عبارات زیر باعث کاهش آلودگی هوا نمی شود؟

- الف) انتقال کارخانه ها به بیرون شهر ب) تعمیر خودروهای خراب
 ج) استفاده از ماشین های شخصی د) ایجاد فضای سبز بیشتر

۵) جدول راحل کن.

۱. دود کارخانه ها و اتومبیل ها را آلوده می کند.
۲. استفاده از وسایل نقلیه ی عمومی مانند باعث پاکیزه نگه داشتن هوا می شود.
۳. بیشترین عامل آلوده کننده ی آب و هوا است.
۴. به پاکیزگی هوا کمک می کنند.



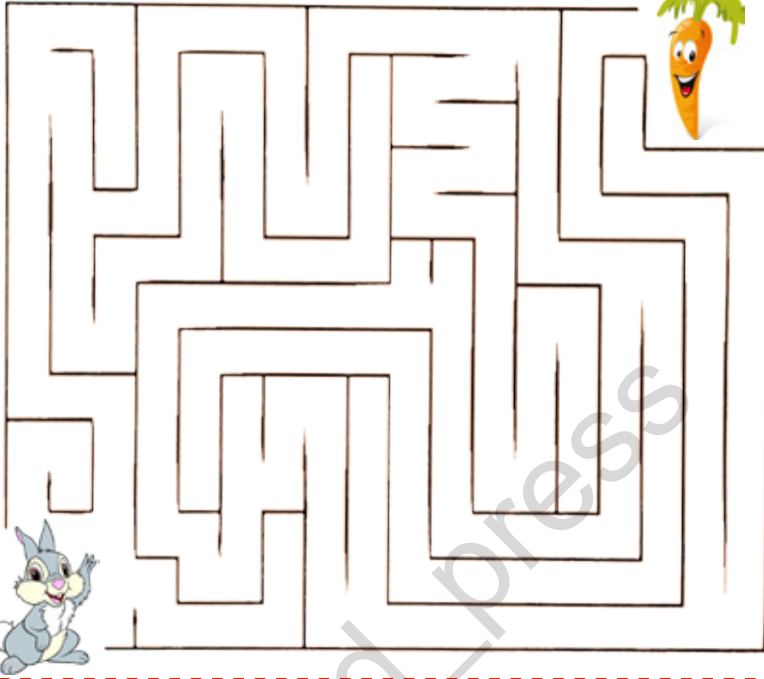
					۱
					۲
					۳
					۴



خیلی خوب خوب قابل قبول نیاز به تلاش بیشتر



گلم، خرگوش را به هویج برسان.



تلاش بیشتر
قابل قبول
خوب
خیلی خوب



ارزیابی

شاخص

- ۱- مهارت برنامه ریزی و زمان
- ۲- توانایی درک و فهم مطالب
- ۳- داشتن استقلال و عدم وابستگی در خواندن و حل تمرینات
- ۴- داشتن علاقه، انگیزه و دقت کافی
- ۵- رعایت اصول زیبا نویسی و تمیزی در نوشتن مطالب
- ۶- علاقه به انجام فعالیت های مرتبط با سرگرمی و

نظر توصیفی اولیاء :

